

1. SINIF DEĞERLENDİRME ÇALIŞMASI III

Ad:..... Soyad.....

1- Tabloda okunuşu verilen sayıları rakam ile yazınız.

Seksen dokuz
.....

2- Boş kutuya gelmesi gereken sayıyı yazınız.

	50	41
--	----	----

3- Boş kutuya gelmesi gereken sayıyı yazınız.

28	29	
----	----	--


4- Boş kutuya gelmesi gereken sayıyı yazınız.

72		74
----	--	----

5- Boş kutuya gelmesi gereken sayıyı yazınız.

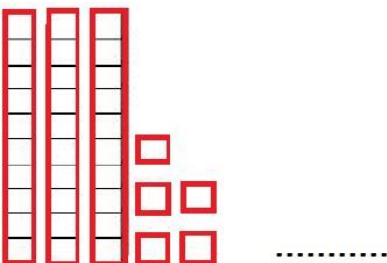
2	4	6	8	
---	---	---	---	--

6- Şekillerden 2. sırada olanı işaretleyiniz.

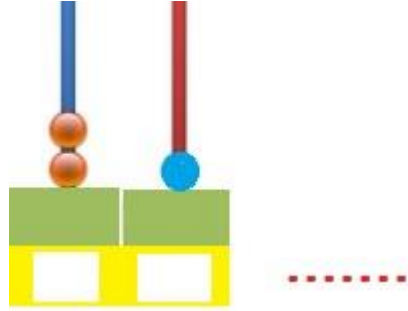


1. 2. 3. 4.


7- Onluk taban bloğundaki sayıyı yanına yazınız.



8- Abaküsteki sayıyı yanına yazınız.



9- Aşağıdaki resme göre soruları cevaplayınız.?



Hayri'nin sağında.....vardır.

Hayri'nin solunda.....vardır.

Hayri'nin üstünde.....vardır.

Hayri'nin altında.....vardır.

10- Aşağıdaki toplama ve çıkarma işlemlerini yapınız.

$$\begin{array}{r} 12 \\ + 8 \\ \hline \end{array}$$

$$\begin{array}{r} 8 \\ - 3 \\ \hline \end{array}$$

$$\begin{array}{r} 8 \\ + 6 \\ \hline \end{array}$$

1. SINIF DEĞERLENDİRME ÇALIŞMASI III

Ad:..... Soyad:.....

11- Merve elma yıkadı.

Merve ne yıkadı?

Kim elma yıkadı?.....

12- Kemal bugün resim yaptı.

Kim resim yaptı?.....

Kemal ne zaman resim yaptı?.....

13- Karışık olarak verilen kelimelerden anlamlı ve kurallı cümle oluşturunuz. Cümleyi Boş kutuya yazınız.

koydu. oyuncak Serpil sepetine oyuncak

14- Aşağıdaki kelime kaç **heceden** oluşmaktadır?

bilgisayarcı

A) 12

B) 10

C) 5

15- Aşağıdaki kelime kaç harften oluşmaktadır?

uzaklık

A) 7

B) 3

C) 6

16- Aşağıdaki kelime hangi seçenekte hecelerine **doğru** ayrılmıştır.

oynadım

o-yna-dim

oy-na-dim

oy-nad-ım

17- Aşağıdakilerden cümle olanları işaretleyelim.

Cemal su içti mi?

Jale resim

Pınar kitap okudu.

Annem akşama yemek